

Фамилия, имя, класс:

1 Кто из перечисленных не является фольклорным персонажем?

- А** Колобок **Б** Илья Муромец
В Кот учёный **Г** Змей Горыныч

Ответ:

2 Соотнеси праздники с датами. Одна дата будет лишней.

А 7 января	День весны и труда	<input type="checkbox"/>
Б 8 марта	День России	<input type="checkbox"/>
В 1 мая	Рождество	<input type="checkbox"/>
Г 9 мая	День народного единства	<input type="checkbox"/>
Д 12 июня	День Победы	<input type="checkbox"/>
Е 4 ноября	Международный женский день	<input type="checkbox"/>
Ж 7 ноября	Лишняя дата	<input type="checkbox"/>

www.kitendo.ru

www.kitendo.ru

www.kitendo.ru

3 У Кости и Игоря по три монеты

У каждого мальчика все монеты разные и не меньше одного рубля. Но при этом у Игоря денег вдвое больше, чем у Кости. Какие монеты у Кости, а какие – у Игоря?

- А** Костя – 1, 5, 10 рублей, Игорь – 1, 2, 5 рублей
Б Костя – 1, 2, 10 рублей, Игорь – 2, 5, 10 рублей
В Костя - 1, 2, 5 рублей, Игорь - 1, 5, 10 рублей

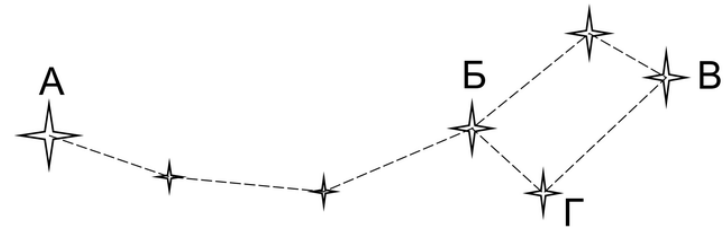
Ответ:

4 Выбери пару слов, которые являются однокоренными

- А** Панда и пандус
Б Бортовой и бортник
В Перепись и пишуший
Г Кружка и кружевной

Ответ:

5 Какая из этих звёзд в созвездии Малой Медведицы – Полярная?



Ответ:

6 Дети готовят к игре по географии флаги разных стран

Флаг Болгарии такой же, как и у России, но вместо синей полосы – зеленая. Французский флаг состоит из вертикальных синей, белой и красной полос, а нидерландский – из тех же, но горизонтальных. Флаг Италии отличается от французского так же, как болгарский – от российского.

Сколько видов цветной бумаги понадобится для этих флагов?

Ответ:

7 Прочитай ещё раз предыдущую задачу

Из каждого листа цветной бумаги можно сделать по три горизонтальных или вертикальных полосы для флага либо одну горизонтальную и одну вертикальную. Сколько всего листов бумаги понадобится для перечисленных флагов?

Ответ:

8 Что означает выражение «вешать лапшу на уши»?

- А Обманывать
- Б Обманываться, быть слишком доверчивым
- В Неаккуратно обращаться с едой

Ответ:

9 Какой предмет не стоит искать в аптечке?

- А Пластырь
- Б Бинт
- В Зеркальце
- Г Йод

Ответ:

10 Какой из этих островов находится в России?

- А Ямайка
- Б Шри-Ланка
- В Мадагаскар
- Г Сахалин

Ответ:

11 Рассеянный учёный Максим доходит от дома до работы за 10 минут

Но сегодня, уже подойдя к своему кабинету, он вспомнил, что забыл тетрадь с расчётами, и вернулся за ней домой. Сколько времени в итоге потратил на дорогу Максим?

Ответ:


12 Разгадай ребус



Ответ:


13 Какое животное не было одомашнено ни в одной части света?

А



Верблюд

Б



Носорог

В



Лама

Ответ:

14 Радиус окружности – 27 см.

Чему равен её диаметр?

Ответ: см

15 Метр относится к сантиметру так же, как центнер (100 кг) – к чему?

А к тонне

Б к килограмму

В к грамму

Ответ:

16 Ответ на вопрос

Какой писатель является автором сказок и рассказов про животных – «Мышонок Пик», «Лесные домишки», «Первая охота» и др.?

А Виталий Бианки

Б Михаил Пришвин

В Константин Паустовский


Ответ:

17 Поэт отправился путешествовать пешком и по дороге сочиняет стихи об увиденной им природе


Он идёт со скоростью 4 км/ч и прошёл уже 24 км. За это время он написал 12 стихотворений. Какова скорость его поэтического таланта, если выразить её в стихотворениях в час?

Ответ:

Расписание мероприятий 2017 года



Регистрация
открыта
с 21 августа



Конкурс
«Лъвёнок»

с 23 октября
по 05 декабря

Всероссийская
метапредметная олимпиада
для учащихся 1-4 классов



с 27 ноября

Фестиваль
новогодних
поздравлений



круглый год

Творческие
занятия
и уроки



«Лъвёнок
джуниор»

с 23 октября
по 05 декабря

Развивающий
интеллектуальный конкурс
для дошкольников

Подробнее расписание
всех мероприятий на сайте:

www.kitendo.ru/events/calendar