

Фамилия, имя, класс:

1 Реши задачу

К 1, 3, 12, 24	Е 9, 21	Н 22	С 13
Ы 16	У	Й 5, 17, 26	Л 20
Р 10	М 6, 15, 18	О 4	И 11, 25
Т 8	Ь 23	А 2, 7, 14, 19	? 27

Используй схему-подсказку, чтобы составить из букв этого квадрата вопрос. Ответ на него.

Ответ:

2 На службу к королю приехали три рыцаря – Рональд, Уильям и Максимилиан

У Максимилиана синий плащ. Лев – не символ рыцаря в зеленом плаще. Рыцарь с грифоном на гербе не носит зеленого или синего плаща. Плащ Уильяма не зеленый. На чем гербе изображен единорог?

Ответ:

www.kitendo.ru

www.kitendo.ru

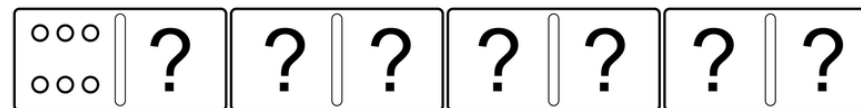
www.kitendo.ru

3 В какой паре оба сказочных персонажа придуманы одним автором?

- А Снежная королева и Гадкий утёнок
- Б Балда и Кот в сапогах
- В Незнайка и Буратино
- Г Красная шапочка и Ашик-Кериб

Ответ:

4 При игре в домино на соприкасающихся половинках костяшек должны быть одинаковые числа (они обозначаются количеством точек), и это могут быть числа от 0 до 6



Например, бывает костяшка 6-6, 6-5 и другие. Какое **наибольшее** количество точек можно насчитать в ряду из четырех костяшек домино, **если все костяшки – разные?**

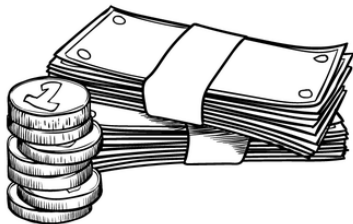
Ответ:

5 Какое произведение было создано раньше?

- А Былины об Илье Муромце
- Б «Сказка о рыбаке и рыбке»
- В «Снежная королева»

Ответ:

6 Соотнеси названия денежных единиц со странами



А

Доллар

Россия

Б

Евро

США

В

Юань

Китай


Г

Рубль

Германия

7 Пользуясь подсказкой, выдели в этой таблице три слова и, вспомнив русскую литературу, отгадай четвёртое (его нет в таблице)

М	А	К	Р	М
Е	Т	О	З	Д
В	Ы	Е	Ё	Д
Ш	Л	Ь	К	А



Напиши в ответе это четвёртое слово.

Ответ:

www.kitendo.ru

www.kitendo.ru

www.kitendo.ru

8 В кабинете висит список фамилий российских учёных. Одна фамилия добавлена по ошибке. Какая?

А Ломоносов

Б Ковалевская

В Ландау


Г Ньютон

Д Павлов

Е Менделеев

Ответ:

9 Посмотри на этот куб



Его грани разбиты на разноцветные квадраты. Зелёных квадратов столько же, сколько красных, синих – восемь, розовых на один меньше, чем зелёных, а жёлтых на три больше, чем красных. Сколько здесь жёлтых квадратов?

Ответ:

10 На какие два числа, кроме 1 и 10, делится любое «круглое» число?

Напиши их в порядке возрастания.

Ответ:

 ,

11 Какой из этих годов был високосным?

- A** 1995      **Б** 2006      **В** 1988      **Г** 1990

Ответ:


12 Посмотри на эти логические ряды, составленные из великих россиян. Они составлены по одному принципу. Догадайся, кто пропущен. Укажи номер правильного варианта.

Художник Виктор Васнецов – композитор Петр Чайковский –  
архитектор Василий Баженов


– композитор Модест Мусоргский – архитектор Андрей Воронихин

- A** композитор Михаил Глинка      **Б** художник Валентин Серов      **В** писатель Михаил Лермонтов

# Расписание мероприятий 2017 года



Регистрация  
открыта  
с 21 августа



Конкурс  
«Лъвёнок»

с 23 октября  
по 05 декабря

Всероссийская  
метাপредметная олимпиада  
для учащихся 1-4 классов



с 27 ноября

Фестиваль  
новогодних  
поздравлений



круглый год

Творческие  
занятия  
и уроки



«Лъвёнок  
джуниор»

с 23 октября  
по 05 декабря

Развивающий  
интеллектуальный конкурс  
для дошкольников

Подробное расписание  
всех мероприятий на сайте:

[www.kitendo.ru/events/calendar](http://www.kitendo.ru/events/calendar)