

Фамилия, имя, класс:

1 Разгадай загадку

Какое максимальное число, написанное римскими цифрами X, V и I, можно сложить из шести спичек, не ломая их? Ответ напиши арабскими (обычными) цифрами.

Ответ:

2 Какое из этих слов можно составить из предлогов и союзов, причем двумя способами?

Впиши в клеточку цифру, соответствующую верному слову.

- | | | |
|---------|---------|--------|
| 1 КРОНА | 2 ДОЗА | 3 ЗНАК |
| 4 ВИЗА | 5 СКУКА | 6 ВИНА |

Ответ:

3 Предположим, сегодня курс доллара равен 65 рублям

Иван Петрович купил 100 долларов. Сколько рублей по курсу они будут стоить через год?

- А Меньше 6500
- Б 6500
- В Больше 6500
- Г Меньше 6500, 6500 или больше 6500

Ответ:

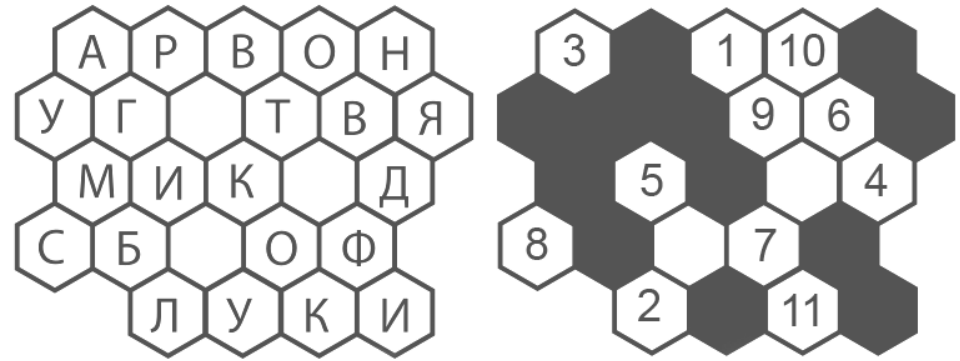
www.kitendo.ru

www.kitendo.ru

www.kitendo.ru

4 Реши задачу

Наложи картинку и составь из оставшихся букв название российского города.



Ответ:

5 Используя справочный материал, определи, какое из приведённых утверждений верно

Справка:

Михаил Юрьевич Лермонтов (1814-1841)
 Александр Васильевич Суворов (1730-1800)
 Иван Андреевич Крылов (1769 – 1844)
 Лев Николаевич Толстой (1828 – 1910)

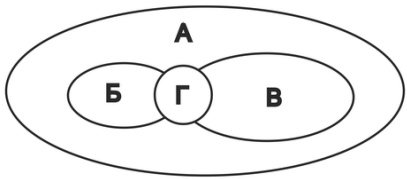
- А Старый Лермонтов однажды встретился с Толстым, бывшим в то время ещё мальчиком
- Б Крылов был знаком с великим писателем Суворовым
- В Суворов ничего не слышал о знаменитом поэте Лермонтове
- Г Крылов и Толстой были приятелями в школьные годы

Ответ:

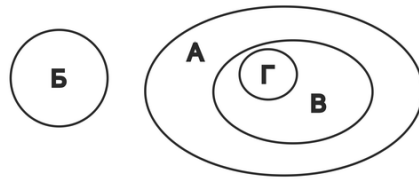
6 Укажи верную схему

А – животные, Б – птицы, В – млекопитающие, Г – летучие мыши.

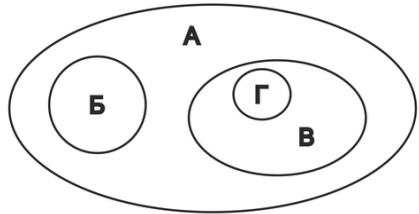
1



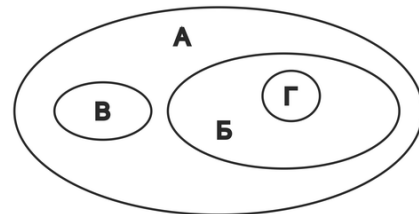
2



3



4



Ответ:

7 Посчитай

Борис старше своего младшего брата Вани в 3 раза, а их брат Андрей старше Вани в 4 раза. Через три года Борис будет в 2 раза старше Вани, а с Андреем такое произойдёт только через шесть лет. Сколько лет Борису?

Ответ:

www.kitendo.ru

www.kitendo.ru

www.kitendo.ru

8 Напиши в клетке число, продолжающее ряд

81, 50, 31, 19, 12, 7,

9 Кто из перечисленных персонажей не является персонажем произведений А. С. Пушкина?

Впиши в ответ одну или несколько цифр через запятые.

1 Царевна Лебедь

2 Королевич Елисей

3 Бабариха

4 Мальчик-с-пальчик

5 Шамаханская царица

6 Золотой петушок

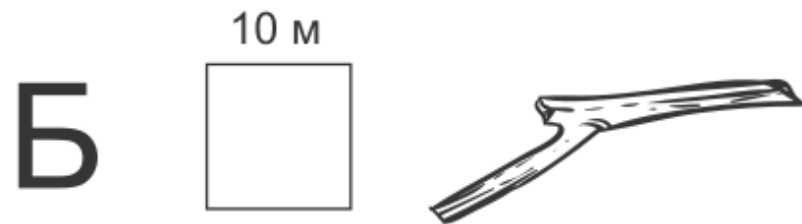
7 Князь Гвидон

8 Царь Дадон

Ответ:

10 Разгадай ребус

К какому классу относится животное, получившееся в ответе? В ответе запиши только класс.



Ответ:

11 Укажи правильный ответ

Какой угол можно сложить из двух, приставленных друг к другу острых углов?

- А Прямой или тупой
- Б Только тупой
- В Острый, прямой или тупой
- Г Острый или тупой

Ответ:

12 Посмотри на картинку

Определи примерно, в каком направлении плывёт теплоход (относительно сторон света), если зарисовка сделана вечером?



- 1 Северное
- 2 Южное
- 3 Западное
- 4 Восточное

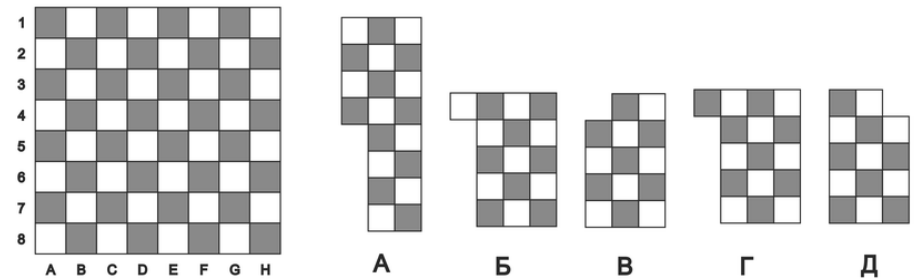
Ответ:

www.kitendo.ru

www.kitendo.ru

www.kitendo.ru

13 Из этих кусков можно сложить шахматное поле



Но один кусок лишний. Какой?

Ответ:

14 Писатели и исторические деятели собраны в пары

Найди принцип и подбери пару Льву Толстому из предложенных вариантов.

Александр Сергеевич Пушкин – Сергей Есенин

Михаил Юрьевич Лермонтов – Юрий Гагарин


Александр Васильевич Суворов – Василий Жуковский

Антон Павлович Чехов – Павел Бажов


Лев Николаевич Толстой –

- А Николай Гоголь
- Б Александр Невский
- В Михаил Кутузов

Расписание мероприятий 2017 года



Регистрация
открыта
с 21 августа



Конкурс
«Лъвёнок»

с 23 октября
по 05 декабря

Всероссийская
метапредметная олимпиада
для учащихся 1-4 классов



с 27 ноября

Фестиваль
новогодних
поздравлений



круглый год

Творческие
занятия
и уроки



«Лъвёнок
джуниор»

с 23 октября
по 05 декабря

Развивающий
интеллектуальный конкурс
для дошкольников

Подробное расписание
всех мероприятий на сайте:

www.kitendo.ru/events/calendar