



1 Запиши слово, в котором корень будет такой, как в слове «работник», приставка – как в слове «заехал», суффикс – как в слове «молоток»:

Ответ:

2 Какое свойство воды используют, когда кладут сахар в кофе?

- А) Бесцветность и прозрачность
- Б) Способность растворять вещества
- В) Поверхностное натяжение

Ответ:

3 В холодную погоду при дыхании образуется туман. Из чего он состоит?

- А) из воздуха
- Б) из капель воды
- В) из снега
- Г) из стекла

Ответ:

4 Напиши пропущенную букву.

Роз...грыш

Пруж...нить

Выш...тые

Рыж...к















5 Реши задачу

В каждую клетку квадрата 3x3 необходимо вписать одну из цифр: 1, 2 или 3. Каждая цифра должна встречаться в каждой строчке и в каждом столбце. Три клетки уже заполнены. Какую цифру нужно поставить вместо вопросительного знака?










2	?	
1		2

Ответ:

6 Расшифруй и запиши слово.

И Я Н Д У Ц Р С Е В Т Л А З

Ответ:

7 Расшифруй загаданные слова.

б2 б3 в1 б5 г1 г5 _____

в5 а3 г1 г2 в3 а5 _____

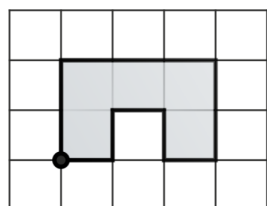
б1 г1 а3 а1 г5 _____

	а	б	в	г
1	л	ш	з	к
2	н	м	ж	с
3	о	у	е	э
4	ь	в	т	и
5	р	ы	б	а

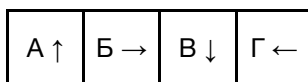
8 Разгадай ребусы и запиши получившиеся слова.



9 Допиши программу для фигуры.



Обозначай команды буквами:



· ↑ ↑ → → → ↓ ↓ ←


10 Грамматическая арифметика.

КОШКА - ШКА + РИ + ЦАРЬ - РЬ = _____

КРУГ - Г + ЖИ - И + КАМЕНЬ - МЕНЬ = _____

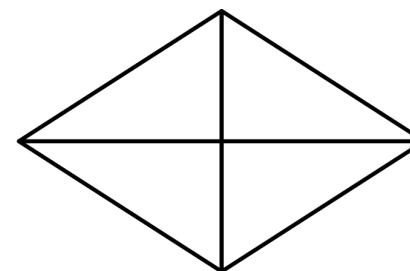
РАДИО - (ДИВО - ВО + О) + ЦИНК - НК + Я = _____

11 Сколько кубиков в этой интересной конструкции?



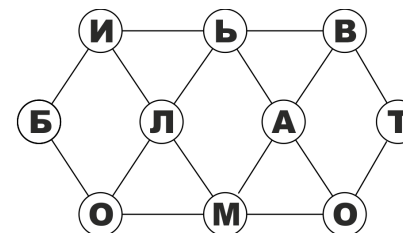
Ответ:

12 Сколько на этом рисунке треугольников?



Ответ:

13 Начиная с буквы "А", пройди по всем буквам и составь слово.



Ответ: _____

14 Из проволоки согнули квадрат со стороной 6 см, затем проволоку разогнули и согнули из нее треугольник с равными сторонами. Какова длина стороны получившегося треугольника?

Ответ:

15 Напиши номер лишней строки в каждой группе.

1. Монитор

1. 49

1. Полиэтилен

2. Принтер

2. 21

2. Полипропилен

3. Клавиатура

3. 77

3. Этиленгликоль

4. Ноутбук

4. 107

4. Полиуретан

16 На руках 10 пальцев. Сколько пальцев на 10 руках?

Ответ:

17 Напиши в квадраты пропущенные числа.

3, 6, 12, 24,

1, 4, 3, 6,

, 8

1, 10, 5, 50, 25,

18 Проведи одну прямую не ломаную линию через три клетки, в которых расположены инструменты одного типа. Запиши номера этих клеток.

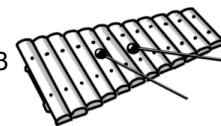
1



2



3



4



5



6



7



8



9



Ответ:

Спасибо за участие!